

Prefeitura Municipal de Colíder - MT

F08 - OPERADOR DE PÁ CARREGADEIRA
Turno: TARDE

Tipo de Prova
1

Sr. Candidato, para ter a sua prova corrigida é obrigatório a marcação do tipo de prova no cartão de respostas. Caso não marque o tipo de prova, o cartão de respostas não será lido e estará automaticamente eliminado do Concurso Público.

TRANSCREVA, NO SEU CARTÃO DE RESPOSTAS, A FRASE ABAIXO PARA O EXAME GRAFOTÉCNICO:

“Coloque-se à prova. Esse é o único caminho que leva ao crescimento.”
(Morgan Freeman)

ATENÇÃO

Este caderno contém quarenta questões de múltipla escolha, cada uma com cinco alternativas de resposta (A, B, C, D, E).

Verifique se este material está em ordem, caso contrário, notifique imediatamente o fiscal.

O tempo de duração da prova inclui o preenchimento do cartão de respostas.

Duração da prova: 4 HORAS

LEIA AS INSTRUÇÕES ABAIXO

Por motivo de segurança:

- O candidato só poderá retirar-se definitivamente da sala após 1 (uma) hora do início efetivo da prova.
- Somente faltando 1 (uma) hora para o término da prova, o candidato poderá retirar-se levando o seu caderno de questões.
- O candidato que optar por se retirar sem levar o seu caderno de questões não poderá copiar suas respostas por qualquer meio.
- Ao terminar a prova, o candidato deverá se retirar imediatamente do local, não sendo possível nem mesmo a utilização dos banheiros e/ou bebedouros.

Sr. Candidato, ao terminar a prova é de sua responsabilidade entregar ao fiscal o cartão de respostas assinado. Não se esqueça dos seus pertences.

Os três últimos candidatos deverão permanecer na sala até que o último candidato entregue o cartão de respostas, devendo assinar a capa de sala.

O fiscal de sala não está autorizado a alterar quaisquer dessas instruções. Em caso de dúvida, solicite a presença do coordenador local.

BOA PROVA!

LÍNGUA PORTUGUESA

Questão 1

Leia o texto a seguir.

TWISTER: Filme de 1996 ganhará sequência

Steven Spielberg ficou impressionado com roteiro da continuação

Omelete 2 min de leitura, Giovanna Breve

17.10.2022, às 21h - Atualizada em 18.10.2022, às 09h25

Twister, filme de aventura sobre cientistas que perseguem tornados, ganhará uma continuação, segundo informação dada pelo Deadline nesta segunda (17). A Universal Pictures e a Amblin Entertainment estariam desenvolvendo uma sequência de grande escala chamada *Twisters*, que contará com Frank Marshall (*Indiana Jones 5*) na produção.

Segundo o portal, o próprio Steven Spielberg, da Amblin, ficou impressionado com o roteiro do longa-metragem, escrito por Mark L. Smith (*Seance*). Os estúdios estão em busca de diretores e alguns nomes na mesa são Elizabeth Chai Vasarhelyi e Jimmy Chin (*Free Solo*), Dan Trachtenberg (*O Predador: A Caçada*) e Travis Knight (*Bumblebee*).

Fontes disseram que a esperança é trazer Helen Hunt de volta, com um drama que foca na filha que ela teve com o personagem interpretado pelo falecido Bill Paxton.

Lançado em 1996, *Twister* aborda sobre dois grupos rivais de pesquisadores de tempestades. Enquanto a tempestade mais devastadora das últimas décadas se aproxima, a professora universitária Jo Harding e uma equipe de alunos com poucos recursos preparam o protótipo de Dorothy, um dispositivo inovador que coleta dados de tornados, criado por seu ex-marido Bill. Quando Harding diz a Bill que Dorothy está pronto para testes, e que seu rival Jonas Miller roubou sua ideia, Bill se junta à equipe para uma última missão na busca de tornados.

BREVE, Giovanna. *Twister: Filme de 1996 ganhará sequência*.

Omelete, 17 de outubro de 2022. Filmes. Disponível em: www.omelete.com.br/filmes/twister-ganhara-sequencia. Acesso em: 19 out. 2022.

A principal finalidade desse texto é a de:

- (A) criticar os diretores de outros filmes por não participarem de uma nova produção.
- (B) apresentar a sinopse de um filme que ganhará uma sequência.
- (C) informar sobre a confirmação da produção da sequência de um filme.
- (D) frisar o comportamento espantado de Steven Spielberg com sua nova obra.
- (E) elogiar a volta de personagens importantes para continuar a história de um filme.

Questão 2

Leia a tirinha a seguir.



Armandinho, 12/11/2014.

Disponível em: https://64.media.tumblr.com/67f5aaf856891264ccfb28851d1a0a2a/tumblr_nfymz917aq1u1iysqo1_1280.png.

Acesso em: 14 out. 2022.

Com base na leitura dessa tirinha, percebe-se que há uma dupla interpretação envolvida na conversa entre as personagens. Essa ambiguidade tem origem no uso da palavra:

- (A) “mãe”.
- (B) “doméstica”.
- (C) “sorte”.
- (D) “braba”.
- (E) “selvagem”.

Questão 3

Leia o trecho abaixo.

“Uma garrafa com uísque de 81 anos foi leiloadada por 300 mil libras (R\$ 1,7 milhão de reais). De acordo com a casa onde o produto foi vendido, a Sotheby’s, ele é o mais velho do mundo.

O valor superou a expectativa do leilão, que previa uma arrecadação entre 110 mil e 200 mil libras (R\$ 635 mil a R\$ 1,1 milhão).”

TORTELLA, Tiago. Com 81 anos, uísque mais velho do mundo é leiloadado por R\$ 1,7 milhão. *CNN Brasil*, 07 de outubro de 2022. Estilo. Disponível em: <https://www.cnnbrasil.com.br/estilo/com-81-anos-uisque-mais-velho-do-mundo-e-leiloadado-por-r-17-milhao/>.

Acesso em: 14 out. 2022.

A oração em destaque faz referência a qual termo desse trecho?

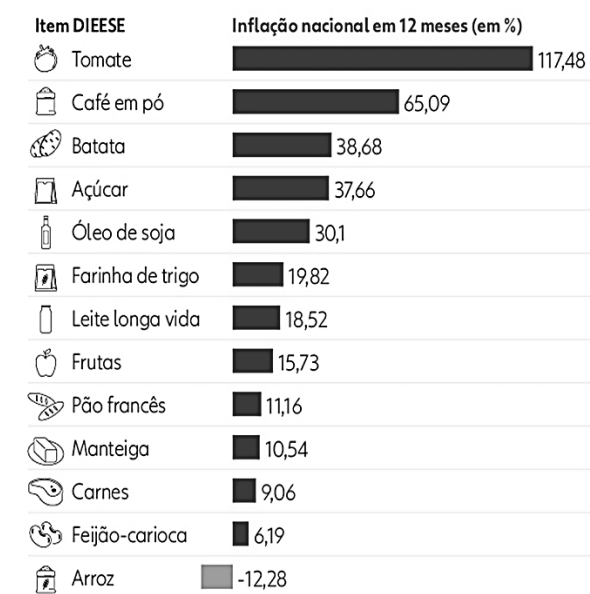
- (A) “Uma garrafa”.
- (B) “a casa”.
- (C) “O valor”.
- (D) “a expectativa”.
- (E) “[d]o leilão”.

Questão 4

Leia o infográfico a seguir.

Cesta Básica mais cara

Itens subiram até 117% nos últimos 12 meses



g1 Fonte: IBGE
Infográfico elaborado em: 29/04/2022

MATOS, Thais. Tomate, café e batata: itens da cesta básica sobem até 117% em um ano e comprometem mais da metade do salário-mínimo. *g1*, 30 de abril de 2022. Disponível em:

<https://g1.globo.com/economia/noticia/2022/04/30/tomate-cafe-e-batata-itens-da-cesta-basica-sobem-ate-117percent-em-um-ano-e-comprometem-mais-da-metade-do-salario-minimo.ghtml>.

Acesso em: 14 out. 2022.

A respeito das informações apresentadas nesse texto, **NÃO** se pode dizer que, no período pesquisado:

- (A) o arroz sofreu uma redução de preço.
- (B) o preço do tomate foi o que mais aumentou.
- (C) o preço do açúcar subiu mais do que o da batata.
- (D) o café em pó foi o segundo item que mais encareceu.
- (E) o feijão carioca e as carnes tiveram as menores altas de preço.

Questão 5

Leia o trecho abaixo, observando os verbos destacados.

“Pense naquele senhor de cartola que é o mascote do jogo *Monopoly*. Ele usa monóculo, certo? Ou não?

Se você imaginou o personagem do popular jogo de tabuleiro usando um monóculo, você errou. Na verdade, ele nunca usou esse acessório.

Isso pode ter te surpreendido, mas você não está sozinho. Muitas pessoas têm essa mesma memória falsa do personagem.”

PRASAD, Deepasri; BAINBRIDGE, Wilma. O estranho 'Efeito Mandela' que a ciência tenta explicar. *BBC Brasil*, 14 de outubro de 2022. Disponível em: <https://www.bbc.com/portuguese/geral-63237037>. Acesso em: 15 out. 2022.

Em qual pessoa do discurso os verbos grifados estão conjugados?

- (A) 1ª pessoa do singular.
- (B) 2ª pessoa do singular.
- (C) 3ª pessoa do singular.
- (D) 2ª pessoa do plural.
- (E) 3ª pessoa do plural.

Questão 6

Assinale a alternativa que apresenta todas as palavras grafadas de acordo com a ortografia oficial da língua portuguesa.

- (A) salchicha | geito | açúcar | alfasse.
- (B) asedo | família | luxo | chuchu.
- (C) lus | assunto | nascimento | aceitar.
- (D) amendoin | tampa | procição | alho.
- (E) cerveja | cerca | tempo | berinjela.

Questão 7

Leia o fragmento a seguir.

“Em 54 anos de carreira, o arqueólogo norte-americano Bruce Bradley, hoje professor emérito da Universidade de Exeter, estima ter produzido 100 réplicas de artefatos antigos para exposições de museus do Reino Unido e milhares para outros fins. Seu trabalho é recriar objetos feitos por ancestrais humanos há milhares de anos. Com o emprego de técnicas e ferramentas similares às do passado, produz cópias das peças originais a partir de materiais como chifres de animais, pontas de metal e pedras lascadas.”

ELER, Guilherme. Pontas de flecha de 4 mil anos indicam trocas culturais entre Reino Unido e França. *Pesquisa Fapesp*, outubro de 2022. Arqueologia. Disponível em: <https://revistapesquisa.fapesp.br/pontas-de-flecha-de-4-mil-anos-indicam-trocas-culturais-entre-reino-unido-e-franca/>.

Acesso em: 15 out. 2022.

Qual das palavras abaixo é classificada como adjetivo, tendo em vista seu emprego no fragmento apresentado?

- (A) carreira.
- (B) arqueólogo.
- (C) réplicas.
- (D) antigos.
- (E) cópias.

Questão 8

Um dos adjuntos adverbiais grifados no trecho abaixo transmite, ao mesmo tempo, as ideias de tempo e de lugar. Qual é esse adjunto?

“O cérebro intriga grandes pensadores da humanidade há séculos. Na Grécia Antiga, o filósofo Aristóteles, por exemplo, o via como uma espécie de sistema de refrigeração: mantinha o corpo frio e evitava o superaquecimento do coração – que, para ele, era a sede da inteligência e do pensamento. O médico Erasístrato chegou a estudar a anatomia cerebral (embora um “mapa” do cérebro só fosse aparecer quase 2 mil anos depois, feito pelo médico inglês Thomas Willis). Ainda na Antiguidade, os egípcios se dedicaram a estudar o órgão, descrevendo, por exemplo, a enxaqueca, a epilepsia e as sequelas de traumas na cabeça (embora o retirassem dos corpos a serem mumificados).”

LOTTEBERG, Claudio L. Treinar o corpo para manter a mente saudável. *Forbes Brasil*, 8 de setembro de 2022. Colunas.

Disponível em:

<https://forbes.com.br/forbessaude/2022/09/claudio-lottenberg-emocoes-afetam-nossa-sensacao-da-passagem-do-tempo-2/>.

Acesso em: 15 out. 2022.

- (A) “Na Grécia Antiga”.
- (B) “só”.
- (C) “quase 2 mil anos depois”.
- (D) “Ainda na Antiguidade”.
- (E) “na cabeça”.

Questão 9

O sujeito gramatical de todos os verbos presentes nos dois primeiros quadrinhos da tirinha abaixo possui a mesma classificação. Assinale a alternativa que indica corretamente tal classificação.



GOMES, Sara. Reações. *Bichinhos de jardim*, 8 de julho de 2021. Disponível em: <http://bichinhosdejardim.com/reacoes/>. Acesso em: 14 out. 2022.

- (A) Sujeito simples.
- (B) Sujeito composto.
- (C) Sujeito oculto ou elíptico.
- (D) Sujeito indeterminado.
- (E) Sujeito inexistente.

Questão 10

Assinale a alternativa em que a concordância verbal é feita no plural pelo fato de o sujeito ser composto e de estar localizado antes do verbo.

- (A) “Não importa o que digam. Palavras e ideias podem mudar o mundo!”
(John Keating, de *Sociedade dos Poetas Mortos – Capricho*, 14/10/22).
- (B) “Nunca abandonem os livros. Enquanto vocês tiverem os livros nas mãos serão pessoas honradas.”
(Professor Girafales, de *Chaves – Capricho*, 14/10/22).
- (C) “Amortecer a dor por algum tempo só vai torná-la pior quando você realmente sentir.”
(Alvo Dumbledore, de *Harry Potter – Capricho*, 14/10/22).
- (D) “Os pensamentos não são gravados no interior dos crânios para serem examinados por qualquer invasor. A mente é uma coisa complexa e de muitas camadas.”
(Severo Snape, de *Harry Potter – Capricho*, 14/10/22).
- (E) “Primeiro aprenda a ficar de pé, para depois aprender a voar.”
(Senhor Miyagi, de *Karatê Kid – Capricho*, 14/10/22).

MATEMÁTICA

Questão 11

Qual é o dobro da soma dos algarismos da parte inteira da expressão numérica $\left[\left(3,2 + 1\frac{2}{5} \right) - \left(\frac{3}{12} + \frac{15}{20} \right) \right] \times \left(5,3 + \frac{3}{2} \right) + 5 \times 8$?

- (A) 10
- (B) 20
- (C) 40
- (D) 100
- (E) N.d.a

Questão 12

Se eu somar o ano de 1969 com o ano de 2003, irei obter o seguinte resultado em numeração romana:

- (A) MMMCMLXXII
- (B) MCMLXIX
- (C) MMIII
- (D) CMMMMLIIXX
- (E) CMMLXXI

Questão 13

Jorginho quer comprar um computador, ele já detém 30% da quantia necessária. No dia do seu aniversário sua mãe lhe dará $\frac{2}{5}$ da quantia e o seu pai lhe dará R\$750,00. Podemos afirmar que o computador custa?

- (A) R\$1.625,00
- (B) R\$1.950,00
- (C) R\$5.250,00
- (D) R\$2.500,00
- (E) R\$2.750,00

Questão 14

Qual das afirmações está CORRETA sobre retas, semiretas e segmentos de retas?

- (A) Se os pontos A e B pertencem a semireta r, podemos nomeá-la de semireta \overrightarrow{AB} ou \overrightarrow{BA} , pois a troca dos pontos na nomeação não fará diferença.
- (B) Se os pontos B e C pertencem a reta p, podemos nomeá-la de reta \overleftrightarrow{BC} ou \overleftrightarrow{CB} , pois a troca dos pontos na nomeação não fará diferença.
- (C) Se os pontos D e E pertencem ao segmento de reta q, podemos nomeá-lo de segmento \overleftrightarrow{DE} ou \overleftrightarrow{ED} .
- (D) Retas possuem um início, mas não um fim.
- (E) Segmentos de reta possuem um início, mas não um fim.

Questão 15

Se cada ângulo interno de um triângulo mede 60° e um de seus lados mede, em centímetro, a quarta parte de duas dezenas. Posso afirmar que o perímetro desse triângulo, é:

- (A) 0,15 m.
- (B) 0,09 m.
- (C) 0,72 m.
- (D) 0,18 m.
- (E) Não é possível descobrir as medidas dos outros dois lados desse triângulo utilizando apenas as informações fornecidas no enunciado.

ATUALIDADES

Questão 16

Apesar do Brasil ter registrado crescimento do Produto Interno Bruto (PIB) em 2022, economistas acreditam que questões ambientais podem prejudicar a economia brasileira, tendo em vista:

- (A) a retirada do Brasil do Acordo de Paris.
- (B) a crise hídrica e possível racionamento de energia.
- (C) a expansão das áreas de preservação ambiental.
- (D) o uso de fontes de energia renovável.
- (E) a redução do desmatamento de áreas destinadas ao plantio de pastagens.

Questão 17

A privatização da Eletrobrás considerada a maior estatal brasileira ocorreu no governo:

- (A) Jair Bolsonaro.
- (B) Michel Temer.
- (C) Luiz Inácio.
- (D) Dilma Rousseff.
- (E) Fernando Henrique.

Questão 18

O cenário de restrições imposto para controlar a disseminação do novo coronavírus, somado à necessidade de encontrar soluções eficazes – como vacinas e medicamentos, rapidamente, contribuiu para a expansão da telemedicina. Sobre isso é CORRETO afirmar que:

- (A) os aplicativos e as startups promovem acesso à saúde, de uma maneira mais acessível, mas é imprescindível se informar sobre a procedência do aplicativo.
- (B) no Brasil, o uso da telemedicina não foi considerável.
- (C) os aplicativos de saúde não foram bem aceitos pelos brasileiros.
- (D) os aplicativos de saúde contribuíram para disseminar fake news sobre a doença.
- (E) num cenário pós-pandemia, os aplicativos de saúde foram excluídos das plataformas digitais.

Questão 19

O Instituto do Homem e Meio Ambiente da Amazônia (Imazon) anunciou nesta quarta-feira (17) que a área de floresta desmatada da Amazônia Legal em 2022 foi a maior dos últimos 15 anos.

(Fonte: Agência de notícias G1, 17 de agosto de 2022).

O aumento do desmatamento:

- (A) reduz a taxa de emissão de carbono em um período de crise climática.
- (B) contribui para a redução das áreas que seriam destinadas para pastagens.
- (C) atua na ampliação dos sistemas agroflorestais.
- (D) ameaça diretamente a vida dos povos e comunidades tradicionais e a manutenção da biodiversidade na Amazônia.
- (E) contribui para tornar o solo mais produtivo.

Questão 20

Uma matéria publica pela Folha de São Paulo, em 26 de setembro de 2022, que tramita na Câmara Federal um projeto que retira o estado do Mato Grosso da Amazônia Legal.

Neste sentido, a Amazônia Legal:

- (A) É uma união de todos os estados na região Norte.
- (B) É um acordo entre o Brasil e os demais países que floresta Amazônia abrange.
- (C) É o nome atribuído pelo governo brasileiro a uma **determinada área da Floresta Amazônica**, pertencente ao Brasil, e que abrange nove estados brasileiros.
- (D) É o conjunto de estados da região Norte que possuem características físicas comuns.
- (E) É o nome dado pelo governo brasileiro para designar as áreas em que os biomas Cerrado e floresta Amazônica se encontram.

Questão 21

O governo Jair Bolsonaro tem sido marcado pela redução de ministérios e rotatividade de ministros. Nesse contexto, um dos ministérios que mais registrou troca de ministros foi:

- (A) Ministério da Defesa.
- (B) Ministério Minas e Energia.
- (C) Ministério da Saúde.
- (D) Ministério da Cidadania.
- (E) Ministério da Educação.

Questão 22

Considerado como polo microrregional, Colíder, também com objetivo de aprimorar a oferta escolar do município, firmou, recentemente (outubro 2022), uma parceria com a Secretaria de Estado de Educação, que trata:

- (A) do projeto Política de Língua Inglesa para as séries iniciais, que envolve a capacitação para os professores municipais.
- (B) da reforma das quadras esportivas da rede municipal.
- (C) da capacitação dos gestores escolares no que tange ao Programa Nacional de Alimentação Escolar.
- (D) de curso de capacitação tecnológica para professores da rede municipal.
- (E) da implantação de novos laboratórios de informática em escolas situadas em áreas de vulnerabilidade social.

Questão 23

De acordo com informações publicadas pelos canais de comunicação de Colíder (13 outubro de 2022), atletas do município registram bom desempenho na 34ª edição dos Jogos Estudantis Vale do Teles Pires. Assim, os jogos ocorrem em:

- (A) Colíder.
- (B) Guarantã do Norte.
- (C) Novo Mundo.
- (D) Pirajuí.
- (E) Matupá.

Questão 24

Com o objetivo de promover debates com foco nas Políticas Públicas para as Mulheres de Mato Grosso, foi realizado no dia 31 de agosto de 2022, o 1º Encontro Mato-Grossense dos Conselhos Municipais dos Direitos da Mulher

(Fonte: Prefeitura de Colíder, 01 de setembro de 2022).

O encontro também encerrou as atividades do Agosto Lilás, que é o mês de:

- (A) combate ao preconceito contra a mulher.
- (B) defesa dos direitos da mulher.
- (C) conscientização pelo fim da violência contra a mulher.
- (D) valorização da mulher na sociedade.
- (E) comemoração do direito do voto feminino.

Questão 25

Em setembro de 2022 foi realizado pela Secretaria Municipal de Assistência Social (SMAS) de Colíder, a capacitação sobre o Sistema de Garantia dos Direitos das Crianças e do Adolescentes com ênfase no fortalecimento da rede de proteção. Segundo informações veiculadas, um dos objetivos dessa capacitação consiste em:

- (A) criar o Conselho Municipal dos Direitos da Criança e do Adolescente.
- (B) atualizar o Estatuto da Criança e do Adolescente.
- (C) criar a Secretaria Municipal de Assistência Social.
- (D) qualificar os atores envolvidos no Sistema de Garantia dos Direitos de Crianças e Adolescentes do município de Colíder.
- (E) capacitar os conselheiros da rede de proteção social.

CONHECIMENTOS ESPECÍFICOS

Questão 26

Os veículos dispõem de equipamentos e sistemas importantes para evitar situações de perigo que possam levar a acidentes. Manter esses equipamentos em boas condições é importante para que eles cumpram suas funções. A respeito desse tema, assinale a alternativa CORRETA.

- (A) O desgaste de um componente não é capaz de prejudicar o funcionamento de outros, mas pode comprometer a sua segurança.
- (B) Devemos ter o hábito de fazer manutenções preventivas, mesmo que seja apenas quando o veículo apresentar sérios problemas.
- (C) Pneus murchos têm sua vida útil aumentada, porém, prejudicam a estabilidade, aumentam o consumo de combustível e reduzem a aderência em piso com água.
- (D) É importante observar se os pneus não têm bolhas ou cortes. Estas deformações podem causar um estouro ou uma rápida perda de pressão.
- (E) As palhetas do limpador de para-brisa devem estar o mais ressecadas possíveis, para evitar acidentes em dias chuvosos.

Questão 27

Podemos afirmar a respeito da inspeção e do uso CORRETO do cinto de segurança:

- (A) Deve possuir pequenos cortes para não se romperem em uma emergência.
- (B) Deve ser ajustado firmemente ao corpo, deixando folgas apenas na parte do ombro e barriga.
- (C) A faixa inferior deverá ficar acima do abdome, sobretudo para as gestantes.
- (D) A faixa transversal deve vir sobre o ombro, atravessando o peito, sem tocar o pescoço.
- (E) É importante o uso de presilhas, para que se aumente o efeito do cinto.

Questão 28

A finalidade da _____ e dos amortecedores é manter a estabilidade do veículo. Quando gastos, podem causar a perda de controle do veículo e seu capotamento, especialmente em curvas e nas frenagens.

- (A) suspensão.
- (B) direção.
- (C) iluminação.
- (D) luz de freio.
- (E) caixa de câmbio.

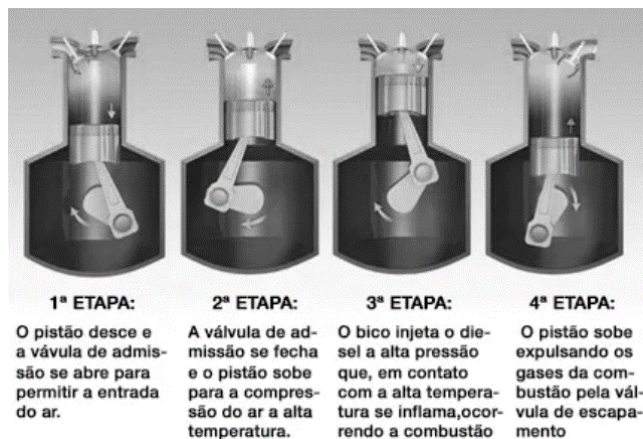
Questão 29

A posição CORRETA ao dirigir evita desgaste físico e contribui para evitar situações de perigo. É uma orientação neste sentido:

- (A) dirigir com os braços e pernas esticados, causando tensões.
- (B) apoie bem o corpo no assento e no encosto do banco, o mais próximo possível de um ângulo de 180 graus.
- (C) ajuste o encosto de cabeça de acordo com a altura dos ocupantes do veículo, de preferência na altura dos olhos
- (D) procure manter os calcanhares apoiados nos pedais quando não os estiver usando.
- (E) fique em posição que permita enxergar bem as informações do painel e verifique sempre o funcionamento de sistemas importantes como, por exemplo, a temperatura do motor.

Questão 30

Analise a imagem abaixo.



A imagem acima mostra as etapas de um motor a diesel. A etapa de número 3 é chamada:

- (A) admissão.
- (B) compressão.
- (C) explosão.
- (D) expulsão.
- (E) purificação.

Questão 31

A respeito da segurança no trabalho, analise as afirmativas abaixo.

- I – Os coletes refletivos devem ser utilizados por todos que estão no local de operação de máquinas pesadas.
 - II – Óculos de proteção e protetor auricular devem ser utilizados por aqueles que se encontram em pontos cegos da operação.
 - III – Nunca se deve passar mais do que 25% da carga máxima indicada para a operação.
- Está(ão) CORRETA(S) a(s) afirmativa(s):

- (A) I, apenas.
- (B) II, apenas.
- (C) III, apenas.
- (D) I e III, apenas.
- (E) I e II, apenas.

Questão 32

Analise a imagem abaixo.








Assinale a alternativa CORRETA a respeito da sinalização gestual do agente de trânsito contida na imagem acima.

- (A) Significa uma ordem de parada obrigatória para todos os veículos. Quando executada em interseções, os veículos que já se encontrem nela são obrigados a parar.
- (B) É uma ordem de parada para todos os veículos que venham de direções que cortem ortogonalmente a direção indicada pelo braço estendido, qualquer que seja o sentido de seu deslocamento.
- (C) Indica ordem de parada obrigatória para todos os veículos. Quando executada em interseções, os veículos que já se encontrem nela não são obrigados a parar.
- (D) Indica uma ordem de seguir.
- (E) Significa uma ordem de parada para os veículos aos quais a luz é dirigida.






Questão 33

Assinale a alternativa que contém o gesto CORRETO que o agente de trânsito deve fazer para indicar uma ordem de diminuição da velocidade.

- (A) 
- (B) 
- (C) 
- (D) 
- (E) 

Questão 34

Assinale a alternativa que contém a placa que indica o peso bruto total limitado.

- (A) 
- (B) 
- (C) 
- (D) 
- (E) 

Questão 35

Analise a imagem abaixo.

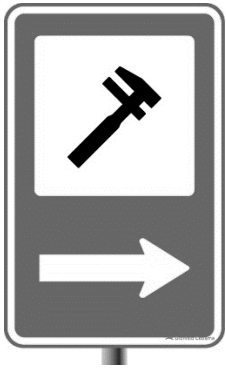


A placa acima (R-39) indica:

- (A) circulação exclusiva de ônibus.
 (B) circulação exclusiva de caminhão.
 (C) ônibus, caminhões e veículos de grande porte mantenham-se à direita.
 (D) proibido trânsito de caminhões.
 (E) comprimento máximo permitido.

Questão 36

Analise a imagem abaixo.



A placa de serviço auxiliar acima indica:

- (A) serviço mecânico.
- (B) abastecimento.
- (C) área de estacionamento.
- (D) serviço telefônico.
- (E) pronto socorro.

Questão 37

Leia o trecho abaixo.

“ _____ é uma peça que concede a centelha que inflama a mistura de combustível e ar para que a combustão ocorra. A faísca deve ocorrer somente na hora adequada para que tudo funcione devidamente.”

A respeito do funcionamento do motor, assinale a alternativa que preenche CORRETAMENTE a lacuna do trecho acima.

- (A) Válvula.
- (B) Vela de ignição.
- (C) Radiador.
- (D) Virabrequim.
- (E) Pistão.

Questão 38

Leia o trecho abaixo.

“Tem como finalidade armazenar e resfriar o óleo que, por sua vez, consegue lubrificar os pistões e auxiliar no resfriamento do bloco do motor.”

O trecho diz respeito a(o):

- (A) cárter.
- (B) biela.
- (C) bloco do motor.
- (D) reservatório.
- (E) anel de pistão.

Questão 39

Segundo o Código de Trânsito Brasileiro, o caminhão-trator é o veículo:

- (A) automotor destinado a tracionar ou arrastar outro.
- (B) destinado ao transporte de carga com peso bruto total de até três mil e quinhentos quilogramas.
- (C) misto destinado ao transporte de passageiros e carga no mesmo compartimento.
- (D) automotor destinado ao transporte de carga com peso bruto total superior a 3.500 kg (três mil e quinhentos quilogramas), podendo tracionar ou arrastar outro veículo, respeitada a capacidade máxima de tração.
- (E) de propulsão humana utilizado no transporte de pequenas cargas.

Questão 40

De acordo com Código de Trânsito Brasileiro, é considerado infração gravíssima:

- (A) dirigir o veículo com o braço do lado de fora.
- (B) dirigir o veículo com incapacidade física ou mental temporária que comprometa a segurança do trânsito.
- (C) usar qualquer veículo para, deliberadamente, interromper, restringir ou perturbar a circulação na via sem autorização do órgão ou entidade de trânsito com circunscrição sobre ela.
- (D) quando o veículo estiver em movimento, deixar de manter acesa a luz baixa durante a noite.
- (E) utilizar a via para depósito de mercadorias, materiais ou equipamentos, sem autorização do órgão ou entidade de trânsito com circunscrição sobre a via.